









# Missing Numbers Worksheet #3-3

## Solutions

1)        

2)        

3)        

4)        

5)        

6)        